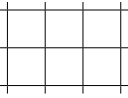

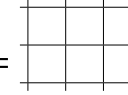




1. Oblicz i wpisz wyniki.


$400 : 4 =$  

$500 : 500 =$  

$400 : 40 =$  

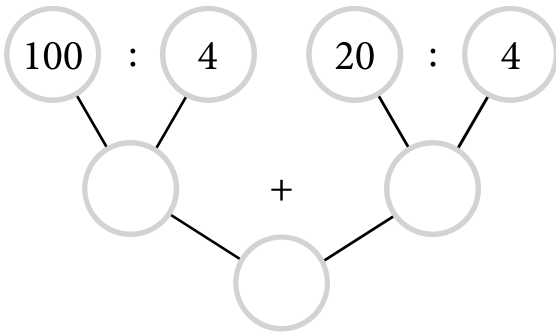
$500 : 50 =$  

$400 : 400 =$  

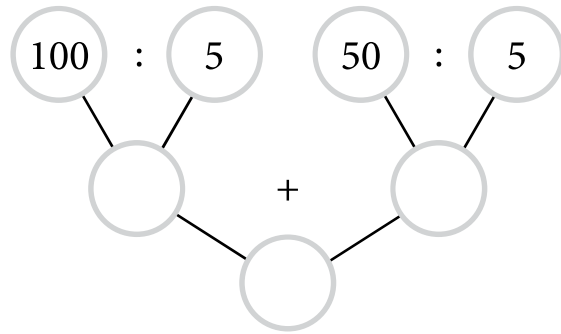
$500 : 5 =$  

2. Uzupełnij drzewka odpowiednimi liczbami. Oblicz i wpisz wyniki.

$120 : 4$



$150 : 5$



3. Rozwiąż zadanie. Zapisz obliczenia i wyniki.

Bibliotekarka szkolna planuje zakup słowników po 100 zł za każdy egzemplarz.

Ile złotych będą kosztować dwa takie słowniki?

--	--	--	--	--	--	--	--	--	--	--	--	--	--	--	--	--	--	--	--

Ile złotych będą kosztować trzy takie słowniki?

--	--	--	--	--	--	--	--	--	--	--	--	--	--	--	--	--	--	--	--

Ile złotych będą kosztować cztery takie słowniki?

--	--	--	--	--	--	--	--	--	--	--	--	--	--	--	--	--	--	--	--



